

Sebahattin Bayrak  
BÖLGEMİZİ TANIYALIM

1 – Aşağıdakilerden hangisi, Karadeniz Bölgesi'ne ait özelliklerden biri değildir?

- A) Sık ve gür ormanlara sahip olması
- B) Tahıl ambarı olması
- C) Türkiye'nin en çok yağış alan bölge olması
- D) Balıkçılıkla uğraşan bir bölge olması

2 - I. Çay – Karadeniz Bölgesi  
II. Pamuk – Akdeniz Bölgesi  
III. Buğday – İç Anadolu Bölgesi  
IV. Balık – Güneydoğu Anadolu Bölgesi

Yukarıdakilerden hangisi yanlış eşleştirilmiştir?

- A) IV                      B) III                      C) II                      D) I

3 - Hangisi, Doğu Anadolu Bölgesi'nin ekonomik faaliyetleri arasında yer almaz?

- A) Büyükbaş hayvancılık gelişmiştir.
- B) Hayvansal ürünlerden gelir elde edilir.
- C) Canlı hayvan ticareti yaygındır.
- D) Tarım ve sanayi oldukça ileridir.

4 - Fındık üretiminin yapıldığı yerler arasında aşağıdakilerden hangisi gösterilemez?

- A) Edirne                      B) Ordu  
C) Trabzon                      D) Giresun

5 - I. Ege Bölgesi                      II. Karadeniz Bölgesi  
III. Akdeniz Bölgesi                      IV. Güneydoğu Anadolu Bölgesi

Yukarıdaki bölgelerden hangisi veya hangilerinin İç Anadolu Bölgesi ile sınırı bulunmamaktadır?

- A) Yalnız I                      B) Yalnız IV  
C) II ve III                      D) Yalnız III

6 - Kızılırmak ve Yeşilirmak aşağıdaki denizlerin hangisine dökülür?

- A) Marmara Denizi
- B) Karadeniz
- C) Ege Denizi
- D) Akdeniz

7 - Karadeniz kıyılarımız fazla girintili çıkıntılı değildir. Bunun sebebi aşağıdakilerin hangisidir?

- A) Kuzey Anadolu Dağlarının kıyıya paralel uzanması
- B) Bölgenin orman bakımından zengin olması
- C) Karadeniz Bölgesinin çok dağlık olması
- D) Dağların denize dik uzanması

8 - Aşağıdaki bölgelerimizden hangisinin denize kıyısı yoktur?

- A) Marmara Bölgesi
- B) Ege Bölgesi
- C) Karadeniz Bölgesi
- D) İç Anadolu Bölgesi

9 - Fiziki haritalarda kullanılan renkler aşağıdakilerden hangisini gösterir?

- A) Ekonomik etkinlikleri
- B) Maden yataklarını
- C) İklimi
- D) Yükselti basamaklarını

**Sebahattin Bayrak**  
**BÖLGEMİZİ TANIYALIM**

10 – “Bugün 500.000’e yakın nüfusa sahip olan Batman, 1953’te 309 kişilik bir köydü.”

Aşağıdakilerden hangisi Batman’ın kaderini değiştirmede etkili olmuştur?

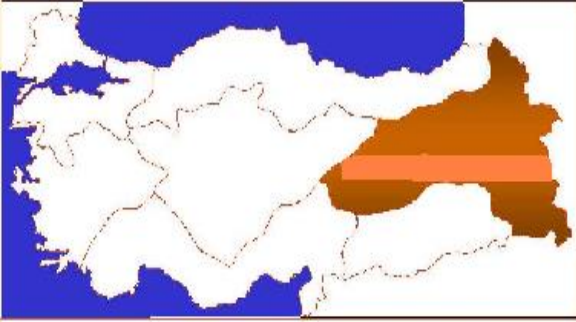
- A) Petrol  
B) Üzüm  
C) Fındık  
D) Demir

11 - “ Soğuk bölgelerde kalın elbiseler giyilirken, sıcak yerlerde ince elbiseler giyilir.”

Bu ifadelerden aşağıdaki çıkarımlardan hangisine ulaşılabilir?

- A) İnsanlar soğuk yerlerde yaşamayı severler.  
B) Bu bölgelerde sanayi gelişmiştir.  
C) İklim, insanların günlük hayatlarını etkiler.  
D) Soğuk havalarda insanlar günün büyük bir bölümünü dışarıda geçirir

12 –



Yandaki haritada renklendirilen bölgemiz hangisidir?

- A) İç Anadolu Bölgesi  
B) Ege Bölgesi  
C) Güneydoğu Anadolu Bölgesi  
D) Doğu Anadolu Bölgesi

13 - Portakal, mandalina, limon grubuna turunçgiller denir. Turunçgiller en çok hangi bölgemizde yetişir?

- A) Akdeniz Bölgesi  
B) Karadeniz Bölgesi  
C) İç Anadolu Bölgesi  
D) Ege Bölgesi

14 - Enes, ailesiyle birlikte Türkiye’nin doğal güzelliklerini görmek için bir geziye katılmıştır. Pamukkale Travertenleri’nden başlayarak Peribacalarını ve Manavgat Çağlayanı’nı ziyaret etmiştir.

Buna göre Enes sırasıyla hangi bölgelerden geçmiştir?

- A) Ege Bölgesi – İç Anadolu Bölgesi – Akdeniz Bölgesi  
B) Ege Bölgesi – Marmara Bölgesi – Akdeniz Bölgesi  
C) Akdeniz Bölgesi – İç Anadolu Bölgesi – Ege Bölgesi  
D) Güneydoğu Anadolu Bölgesi – İç Anadolu Bölgesi – Akdeniz Bölgesi

15 - İç Anadolu Bölgesi’nde yazlar sıcak ve kurak, kışlar soğuk ve kar yağışlı geçer. Bu bilgilere dayanarak İç Anadolu Bölgesi’nde hangi tarım ürünü daha fazla yetişir?

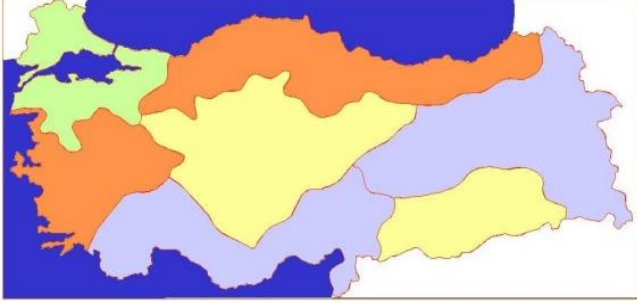
- A) Buğday  
B) Pamuk  
C) Zeytin  
D) Fındık

16 - Aşağıdakilerden hangisi Yeşilırmak’ın denize döküldüğü yerde oluşan ovadır?

- A) Bafra Ovası  
B) Çarşamba Ovası  
C) Adapazarı Ovası  
D) Harran Ovası

Sebahattin Bayrak  
BÖLGEMİZİ TANIYALIM

17 - Aşağıdaki Türkiye haritasına göre, İç Anadolu bölgesine sınır komşusu olmayan bölgemiz hangisidir?



- A) Güneydoğu Anadolu Bölgesi
- B) Marmara Bölgesi
- C) Doğu Anadolu Bölgesi
- D) Ege Bölgesi

18 - Yaşanılan bölgenin iklimi, o bölgedeki pek çok faaliyeti etkilemektedir. Aşağıdakilerden hangisi buna örnek olamaz?

- A) İnsanların edindikleri kötü alışkanlıklar
- B) İnsanların giyim şekli
- C) Tarım ürünlerinin çeşidi ve türü
- D) Nüfusun yoğun veya seyrek olması

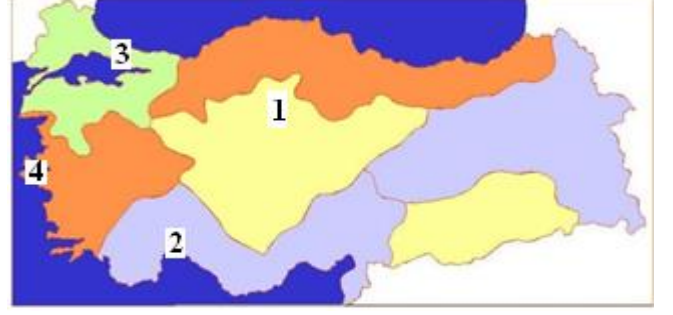
19 - Turunçgiller yazları sıcak, kışları ılık ve yağışlı bir iklimi olan bölgelerde yetişir. Buna göre turunçgiller en çok hangi bölgemizde yetişmektedir?

- A) Marmara Bölgesi
- B) Akdeniz Bölgesi
- C) Ege Bölgesi
- D) Karadeniz Bölgesi

20 - Aşağıda doğal varlıklar ve buldukları bölgeler verilmiştir. Eşleştirmelerden hangisi yanlıştır?

- A) Van Gölü – Doğu Anadolu Bölgesi
- B) Tuz Gölü – Karadeniz Bölgesi
- C) Pamukkale - Ege Bölgesi
- D) Uludağ – Marmara Bölgesi

21 -



Yukarıdaki haritaya göre 1, 2, 3 ve 4 rakamları ile gösterilen illerimiz sırasıyla hangileridir?

- A) Ankara – Antalya – Çanakkale – İzmir
- B) Konya – Antalya – İstanbul – İzmir
- C) Ankara – İzmir – Antalya – Bursa
- D) Ankara – Antalya – İstanbul – İzmir

22 - Sellerle ilgili aşağıdaki ifadelerden hangisi yanlıştır?

- A) Oluşumunda yeryüzü şekilleri önemli rol oynar.
- B) Ormanların yok edilmesi ve arazinin teraslanmadan kullanılması sel baskınlarını azaltır.
- C) Bazen çok büyük can ve mal kayıplarına neden olur.
- D) Sürekli yağın yağmurdan veya eriyen karlardan meydana gelir.

23 - “Bir bölgede yaygın olarak sürdürülen ekonomik faaliyetler o bölgede yaşayanların meslek seçimini etkiler.” Buna göre aşağıdakilerden hangisi bu açıklamaya uygun bir ifade değildir?

- A) Karadeniz Bölgesi’nde balıkçılık yapılması
- B) Akdeniz Bölgesi’nde insanların turizme yönelmesi
- C) Doğu Anadolu bölgesi’nden ülkemizin et ihtiyacının büyük bölümünün karşılanması.
- D) Marmara Bölgesi’ndeki insanların çoğunun geçimini tarımla kazanması



Sebahattin Bayrak  
BÖLGEMİZİ TANIYALIM



Başarı çalışmada gizlidir.